

國小數學 2 下單元卷 八、分分看

二年 班 號 姓名： _____

1 做做看看。(每題 2 分，共 10 分)

下面的分法可以平分 32 個果凍嗎？
可以的一畫○，不可以的一打×。

- () (1) 分成 2 包
- () (2) 分成 3 袋
- () (3) 分成 6 盒
- () (4) 分給 8 個人
- () (5) 分給爸爸、媽媽、我和弟弟


2 分分看看。(每格 2 分，共 28 分)

(1) 把蘋果平分：




- ① 平分放入 2 個盒子，每個盒子要放 () 個。
- ② 平分放在 4 個盤子，每個盤子要放 () 個。
- ③ 平分給 6 個小朋友，每個小朋友可以得 () 個。

(2) 把汽球平分：



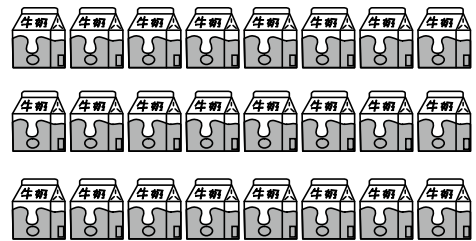
- ① 每 2 個綁成一束，可以綁成 () 束。
- ② 平分綁在 4 棵樹上，每棵樹上要綁 () 個。
- ③ 平分給 5 個小朋友，每人可以分到 () 個。
- ④ 如果要分給 8 個小朋友，可以平分嗎？()

(3) 把糖果平分：




- ① 每個小朋友分 5 顆，可以平分給 () 個小朋友。
- ② 平分給 5 個小朋友，每個小朋友可以分到 () 顆。

(4) 把牛奶平分：



- ① 平分給 2 個班級，每個班級分到 () 瓶。
- ② 平分給 4 個小隊，每個小隊分到 () 瓶。
- ③ 平分給 8 個小朋友，每個小朋友分到 () 瓶。

(5) 把小魚平分：



- ① 平分放入 3 個魚缸，每個魚缸要放 () 隻。
- ② 平分放入 6 個魚缸，每個魚缸要放 () 隻。

3 用乘法算式找出答案。

(每題 7 分，共 56 分)

(1) 跆拳道比賽總共有 48 個人參賽，每 6 個人分成 1 組，可以分成幾組？

(2) 有 27 隻蠶寶寶，每個盒子裝 9 隻，一共需要幾個盒子？

(3) 二年級一班有 24 個學生，校外教學時平分成 6 組，每組有幾個學生？

(4) 麵包店師傅做了 54 個小可頌，每 6 個裝成一包，可以裝成幾包？

(5) 50 個綠豆椪，平分成 5 盒，每盒有幾個綠豆椪？

(6) 宣智有 40 張遊戲卡，想平分成 8 個好朋友，每個人可以得到幾張遊戲卡？

(7) 媽媽買了 28 顆雞蛋，想平分成 1 個星期煮完，媽媽每天要煮幾顆雞蛋？

(8) 奶奶買了 24 朵香水百合，每個花瓶插 6 朵，需要多少個花瓶才能全部插完？

4 素養題。(每題 3 分，共 6 分)

媽媽帶瑋成參加披薩烘焙體驗營，這個梯次參加的親子人數總共有 24 個人。

(1) 一張桌子可以讓 8 個人做披薩，要幾張桌子才夠？

(2) 老闆烤好了 6 個披薩招待大家，每個披薩要切成幾片，才會剛好一個人一片？