










3 下面哪些圖形有周界？用黑筆把周界描出來，再把內部塗上顏色。

1 	2 
3 	4 
5 	6 

80 



第 19 回

## 十 周界與周長

活動 1 認識周界  
活動 2 周長的量測與計算

[看解答](#)

得 2 分

1 用藍筆描出下面圖形的周界。(每題 3 分，共 6 分)

(1)



(2)



2 下面哪些圖形有周界？在  裡打 。

(每題 3 分，共 12 分)

(1)



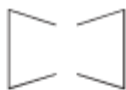
(2)



(3)



(4)



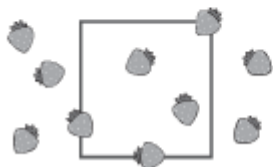
3 數一數，填填看。(每格 3 分，共 18 分)

(1) 下面正方形的

內部有 ( 2 ) 個 。

外部有 ( 5 ) 個 。


周界上有 ( 3 ) 個 。

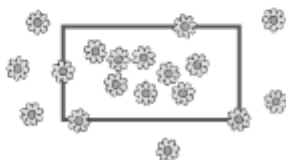


(2) 下面長方形的

內部有 ( 8 ) 朵 。

外部有 ( 6 ) 朵 。

周界上有 ( 4 ) 朵 。



版权所有，翻印必究



十二  
點金術

放大 解答

一  
寫國字或注音

為了達成王子

年  
幼

時  
的生日

願  
望



配合課本第100頁

女  
王

王決定送給王子一份

珍

貴的禮物

一  
部

純

金的

馬

車。

但王子



非

但不滿足，還要求車內的一

切

包  
含

桌

子、

椅

子、手

碰

到的



門把都要用黃金製作，還要擺滿

食

物，

動動腦

解答

女王送給王子什麼禮物？



難怪大家都稱他「貪心王子」。



71

配合課本第100頁



點金術

二

依據課文，填入正確的答案。

結果

國王了解有許多東西比金子更

珍貴。

經過

- (1) 國王碰到的東西全部都變成金子。
- (2) 國王的 **食物** 和 **女兒** 也變成金子。

起因

神給了國王一個

**願望**。

背景

國王非常喜歡

**金銀珠寶**。