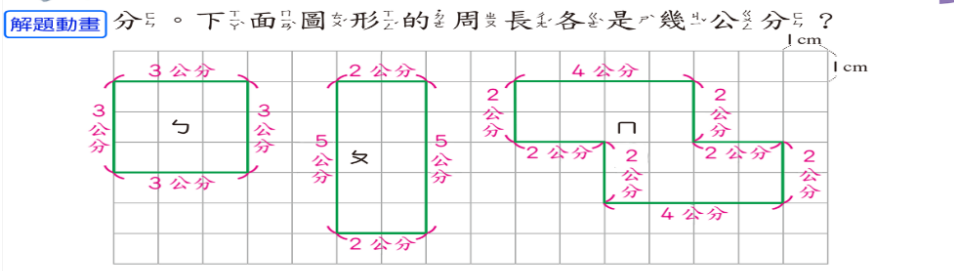


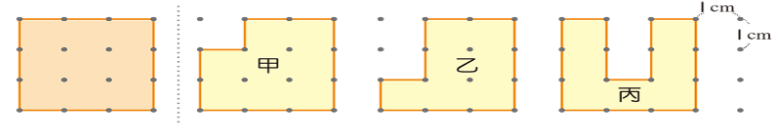
**6** 下圖如中，每一一個方格邊長都是1公分。



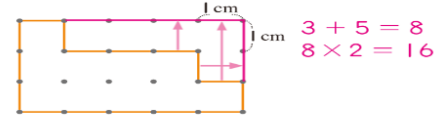
□: 12 公分  
 長方形: 14 公分  
 不規則形: 20 公分

**動動腦**

① 哪些圖形和左圖正方形周長一樣長？



② 下圖各圖形周長是幾公分？



答: 16 公分


142 配合習作 第83頁

**3** 下面哪些圖形有周界？用黑筆把周界描出來，再把內部塗上顏色。

80 配合課本第 138 頁

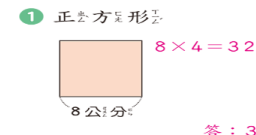
**活動2 周長的實測與計算**

1 先量一量，再算算看，下面正方形圖卡的周長是幾公分？  
 $4 \times 4 = 16$

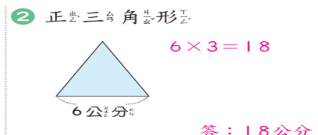


答: 16 公分

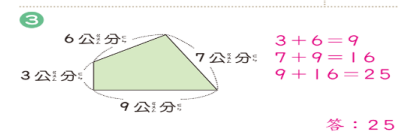
2 算算看，下面圖形的周長各是幾公分？



答: 32 公分



答: 18 公分



答: 25 公分

81 配合課本第 139、140 頁