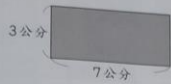


算算看，下面圖形的周長各是多多少？
(每題6分，共36分)(本題做法僅供參考)

(1)長方形



$$7 + 3 = 10$$

$$10 \times 2 = 20$$

答：20公分

(2)正方形



$$7 \times 4 = 28$$

答：28公分

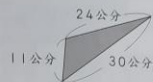
(3)正三角形



$$9 \times 3 = 27$$

答：27公尺

(4)



$$11 + 24 = 35$$

$$35 + 30 = 65$$

答：65公分

(5)



$$43 + 17 = 60$$

$$60 + 52 = 112$$

$$112 + 28 = 140$$

答：140公分

(6)



$$2 + 2 = 4$$

$$4 + 3 = 7$$


$$7 + 3 = 10$$

$$10 + 4 = 14$$

答：14公尺

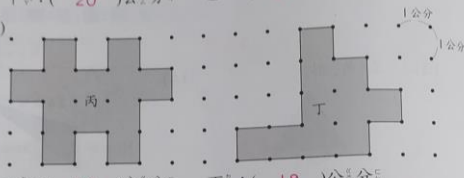
算算看，下面圖形的周長各是幾公分？
(每題4分，共16分)

(1)



甲：(20)公分
乙：(22)公分

(2)



丙：(22)公分
丁：(18)公分

下面是用每枝長6公分的竹籤圍出來的圖形。它們的周長各是幾公分？
(每題4分，共12分)(本題做法僅供參考)

(1)



$$6 \times 5 = 30$$

答：30公分

(2)



$$6 \times 7 = 42$$

答：42公分

(3)



$$6 \times 10 = 60$$

答：60公分