

活動2 幾分之幾

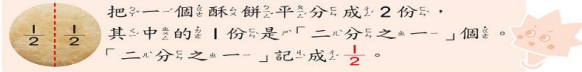
1 分酥餅

一個酥餅平均分成2份，妹妹吃了其中的一份，是吃了多少個酥餅？

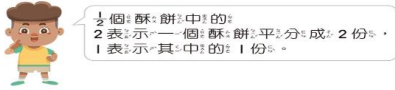
解題動畫



要怎麼表示「把一個酥餅平均分成2份，其中的一份」是幾個酥餅呢？

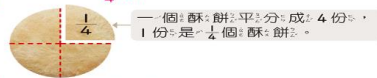


想想看， $\frac{1}{2}$ 個酥餅的2表示什麼？1表示什麼？



② 一個酥餅平均分成4份，其中的一份是幾個酥餅？

解題動畫



③ 一個酥餅平均分成8份，其中的一份是幾個酥餅？

解題動畫



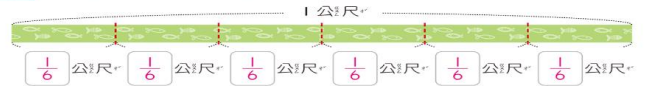
像 $\frac{1}{2}$ 、 $\frac{1}{4}$ 、 $\frac{1}{8}$ 這樣的數，叫做分數。

$\frac{1}{2}$ ← 橫線上面的數是「分子」

$\frac{1}{2}$ ← 橫線下面的數是「分母」

② 把1公尺長的彩帶平均分成6段，每段是幾公尺？

解題動畫



單元9 分數

活動1 平均分

1 下面哪些圖形有平均分？在□裡打✓。

1

2

3

4

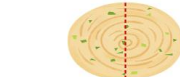
5

6

活動2 幾分之幾

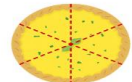
1 看看圖填填看看。

1



一個蔥油餅平均分成2塊，其中的一塊是 $\frac{1}{2}$ 個蔥油餅。

2



一個檸檬塔平均分成6塊，其中的一塊是 $\frac{1}{6}$ 個檸檬塔。

3



一個蛋糕平均分成8塊，其中的一塊是 $\frac{1}{8}$ 個蛋糕。

4



一卷壽司平均分成10塊，其中的一塊是 $\frac{1}{10}$ 卷壽司。

2 讀一讀，記一記，把正確的圈起來。

1



2

