

3 拿出附件做做看看。(附件20)

① 要怎麼表示 $\frac{1}{2}$ 張呢?
說說看看,你是怎麼做的?



我先對摺後,再塗上顏色。



② 要怎麼表示 $\frac{1}{4}$ 張呢?

我先對摺,再對摺,最後塗上顏色。



我先對摺,再對摺,最後塗上顏色。

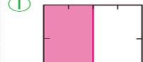


做做看

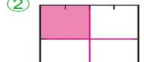
塗出下面指定幾分之幾。



這是一張色紙。



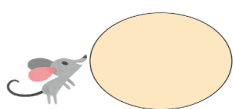
$\frac{1}{2}$ 張色紙



$\frac{1}{4}$ 張色紙

3 塗塗看看。

這是一個大餅。



① 把 $\frac{1}{2}$ 個大餅塗上顏色。



② 把 $\frac{1}{4}$ 個大餅塗上顏色。




③ 把 $\frac{1}{8}$ 個大餅塗上顏色。



4 看看圖回答問題。

妙妙分到右圖的其中一塊蛋糕,是 $\frac{1}{6}$ 個蛋糕嗎?(是()不是())
為什麼?
我的想法是:蛋糕沒有平分成6塊,所以不是 $\frac{1}{6}$ 個蛋糕。



活動3 全部的幾分之幾

① 有一條蛋糕平分成5塊,妙妙吃了其中的一塊,是吃了幾條蛋糕?
也可以說是吃了全部的幾分之幾?

解題動畫



我吃了 $\frac{1}{5}$ 條蛋糕,也可以說是吃了全部的 $\frac{1}{5}$ 。



② 說說看看,下面哪些國旗的紅色色全部是全部的 $\frac{1}{3}$ 呢?(附件21) 義大利、德國

解題動畫



哥倫比亞



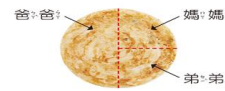
義大利



德國

動動腦

有一個蔥油餅,像下面這樣分,他們都分到全部的 $\frac{1}{3}$ 嗎?



不是,蔥油餅沒有平分成3塊,所以不是分到全部的 $\frac{1}{3}$ 。

活動3 全部的幾分之幾

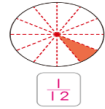
① 塗色全部是全部的幾分之幾?

1



$\frac{1}{4}$

2



$\frac{1}{12}$

② 下面哪些國旗的藍色色全部是全部的 $\frac{1}{3}$?在()裡打 \checkmark 。(附件22)

1



巴拿馬

2 \checkmark



俄羅斯

3



烏克蘭

4 \checkmark



荷蘭

5 \checkmark



羅馬尼亞

6



宏都拉斯

- ① 3. 媽媽 我勇敢面對失敗。
- ② 4. 依據課文,下列哪個不是「我喜歡你」的原因?
① 你會陪我很多事
② 你會幫我寫作業
③ 你會讓我鼓起勇氣面對挑戰
- ③ 5. 課文中的「你」,最不可能是一下列哪一個?
① 好朋友
② 小寵物
③ 陌生人

- ① 畫下 () 層層 ()
- ② 走過 () 條條 ()
- ③ 大山 () 層層 ()
- ④ 待在我 () 時候
- ⑤ 當我 ()
- ⑥ 待在我 ()

- 1. 寫國字或注音: 每字2分,共12分
- 1. 妹妹每天下午都會在房間「彈」奏鋼琴。
「 」
① () ② () ③ () ④ ()
- 2. 今年生日我收到一份「 」之禮的禮物。
「 」
① () ② () ③ () ④ ()
- 3. 大家圍在老師「 」邊,聽她「 」童話故事。
「 」
① () ② () ③ () ④ ()

- 1. 失敗 () 不管、不理會 ()
- 2. 練習 () 不成功、遇到挫折 ()
- 3. 不論 () 反覆做,使技巧熟練 ()
- 4. 鼓勵 () 鼓舞、激勵 ()